

二年级数学期末试题

一、算一算

1、直接写出得数

$$\begin{array}{cccc} 30 \div 6 = & 30 \div 5 = & 72 \div 9 = & 24 \div 4 = \\ 80 + 40 = & 180 - 90 = & 1500 - 700 = & 7000 - 6000 = \\ 18 \div 2 = & 21 \div 3 = & 48 \div 8 = & 63 \div 7 = \\ 8 \times 8 = & 72 \div 8 = & 8 \times 4 = & 20 \div 4 = \\ 320 + 500 = & 600 + 800 = & 1200 - 900 = & 900 + 400 = \\ 1100 - 400 = & 160 - 80 = & 9 \times 3 = & 81 \div 9 = \\ 130 - 70 = & 370 - 200 = & 49 \div 7 = & 1300 - 800 = \end{array}$$

2、用竖式计算

$$460 + 380 = \quad 900 - 180 = \quad 650 - 480 = \quad 540 + 390 =$$

3、计算

$$63 \div 9 \times 6 \quad 4 \times 8 + 23 \quad 5 + 7 \times 8 \quad 64 \div 8 \div 4$$

二、按要求填空。

- (1) 由 5 个千、2 百和 8 个一组成的数是 ()。
- (2) 与 2999 相邻的两个数是 () 和 ()。
- (3) 光明小学共有 798 人, 约是 () 人。
- (4) 最大的三位数与最小的四位数之差是 ()。
- (5) 把 1478、699、897、1128 这四个数按从大到小顺序排列。
是 () < () < () < ()。
- (6) 35 是 5 的 () 倍, 24 是 () 的 4 倍
- (7) 在○里填上 >、< 或 =。

1005 克 ○ 1 千克

2 时 ○ 120 分

40 秒 ○ 1 分

42 - 18 ○ 35

24 + 17 ○ 39

70 + 90 ○ 160

(9) 一枚二分硬币重约 1 (), 1 袋食盐重约 500 克, 4 袋食盐重 () 千克。

(10) 小明的体重是 28 (), 他的语文课本重 170 ()。

三、选择(把正确答案的序号填在括号里)

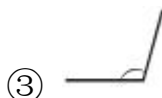
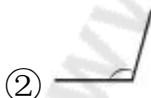
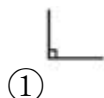
(1) 9 个 6 是多少? 列式正确的是 ()。

- ① $6 \times 9 =$ ② $6 + 9 =$ ③ $9 - 6 =$

(2) 六千零九写作 ()。

- ① 609 ② 6009 ③ 6090

(3) 下面图中, () 是钝角。



(4) 下面的现象中, () 是旋转。

- ① 滑滑梯 ② 风车转动 ③ 拉抽屉

(5) 最大的四位数是 ()。

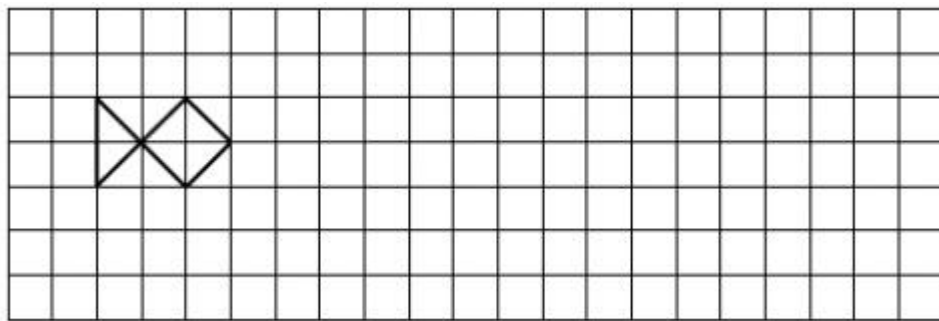
- ① 1999 ② 9000 ③ 9999

(6) 1 千克棉花和 1 千克铁比较。 ()

- ① 铁重 ② 棉花重 ③ 一样重

四、画一画

1、在方格里画出向右平移 9 格后的图形。



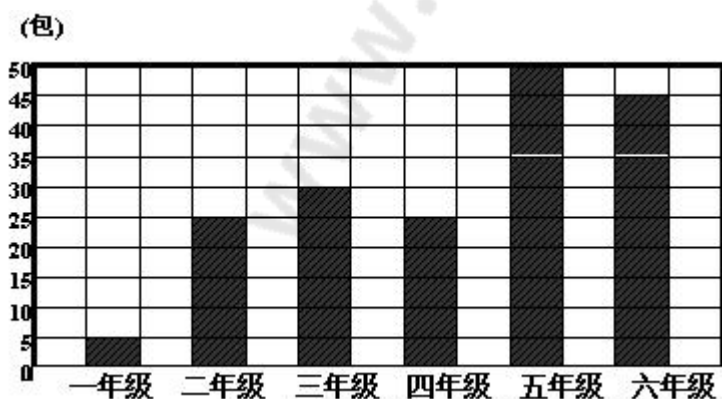
2、按要求画角

(1) 画一个钝角

(2) 画一个直角

五、做一做

下面是光明小学一至六年级同学为四川灾区小朋友捐书情况统计图



① 完成下面的统计表。

年级	一年级	一年级	二年级	四年级	五年级	六年级
包数						

- ②一格代表 () 包。
- ③() 年级捐书最多, () 年级捐书最少。
- ④ 六年级捐书的包数是一年级的() 倍。

六、解决问题

1、小明今年 8 岁, 妈妈 32 岁, 妈妈的年龄是小明的多少倍?

2、



3、一根电线长 84 米, 第一次用去 15 米, 第二次用去 23 米, 这根电线还剩多少米?

4、食堂买来 36 千克大米，吃了 12 千克，剩下的大米 6 天吃完，平均每天吃多少千克？

5、有 42 块糖，平均分给小冬和他的 5 位小伙伴，平均每人分几块？

6、

价目表 冰粥每碗 5 元 奶茶每杯 2 元

买 3 碗冰粥和一杯奶茶，20 元够吗？

七、补充题

1. $\square + \square + \square = 24$

$\square \times \triangle = 56$

$\square - \triangle = (\quad)$

2、用 0、0、2、4、四个数字按要求组成四位数。

(1) 由这四个数组成的最大的四位数是 ()。

(2) 由这四个数组成的最小的四位数是 ()。

3、妈妈买回不到 10 个苹果，两个两个地数多 1 个，三个三个地数最后也多 1 个。你说妈妈买回几个苹果？

4、一辆自行车有 2 个轮子，一辆三轮车有 3 个轮子，车棚里有自行车、三轮车共 9 辆，数数车轮有 24 个，问自行车有几辆，三轮车有几辆？

小学学习资料站: www.xiaoxuejy.com

www.xiaoxuejy.com

老师微信: LJYHDB000